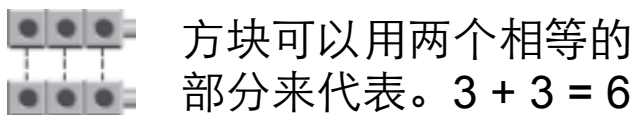


# 偶数和奇数

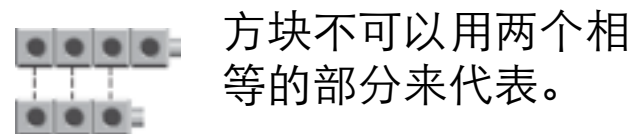
偶数可以用两个相等的部分来代表。  
奇数不可以用两个相等的部分来代表。

这里有6个方块。  
6是偶数还是奇数？  
把相配的用线画起来。




6 是 偶数 的数字。

这里有7个方块。  
7是偶数还是奇数？  
把相配的用线画起来。




7 是 奇数 的数字。


用线把相配的方块画起来。数字是偶数还是奇数的？




10 是 \_\_\_\_\_ 的数字。



9 是 \_\_\_\_\_ 的数字。



12 是 \_\_\_\_\_ 的数字。



15 是 \_\_\_\_\_ 的数字。

5. 写下奇数或偶数。用方块来帮助你。  
如果是偶数，请写一个倍数算式。

14 \_\_\_\_\_

\_\_\_\_\_ + \_\_\_\_\_ = \_\_\_\_\_

17 \_\_\_\_\_

\_\_\_\_\_ + \_\_\_\_\_ = \_\_\_\_\_

20 \_\_\_\_\_

\_\_\_\_\_ + \_\_\_\_\_ = \_\_\_\_\_