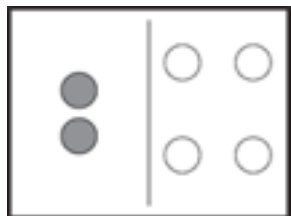


写加法算式

一共有几个圆形？把部份加在一起。



$2 + 4 = 6$
是一个加法算式。


2 加 4 等于 6.

2 和 4 是 6
部份 部份 全部

$2 + 4 = 6$

为下面的题目写出加法算式。

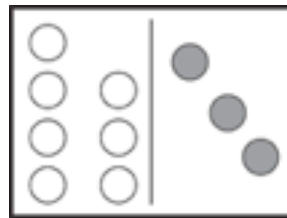
1.



一共有几个圆形？

_____ + _____ = _____


2.



一共有几个圆形？

_____ + _____ = _____

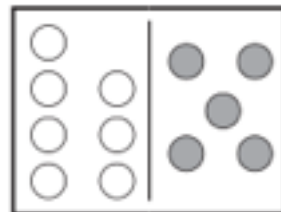
3.



一共有几个圆形？

_____ + _____ = _____

4.



一共有几个圆形？

_____ + _____ = _____