






用图例统计图上的资料

你可以用图例统计图上的资料来回答问题。

每个生日帽等于一个小朋友喜欢。

有10个小朋友选择

最喜欢的生日帽						
 条纹						
 圆点花纹						

有几个小朋友喜欢条纹的生日帽? 4

有几个小朋友喜欢圆点花纹的生日帽? 6

喜欢圆点花纹的小朋友比喜欢条纹的小朋友还要多几个?

2

最喜欢的社团						
 科学						
 艺术						

1. 有几个小朋友选择他们喜欢的社团? 7

2. 有几个小朋友喜欢科学? 7

3. 选择艺术的小朋友比选择科学的小朋友还要少几个? 0

4. 哪一个社团有比较多小朋友喜欢? 科学 艺术