


名字 _____

练习
3-4

找到 10 的加数里面的未知数

画出另一边。写出数字。

1.



5

5

知道的数字

未知数（不知道的）


2.



知道的数字

未知数（不知道的）


3.



知道的数字

未知数（不知道的）

4.



知道的数字

未知数（不知道的）

代数。写出未知数。

5. $4 + \underline{\quad} = 10$

6. $1 + \underline{\quad} = 10$

日记，画图解决问题。

7. 10 个球，有几个在长方形里面，有几个在外面。画图表示，写出数字。自己想一想。

知道的数字

未知数（不知道的）

