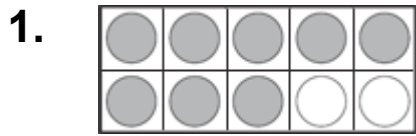
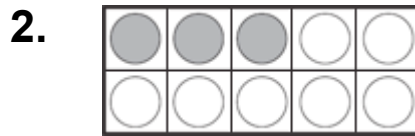


10 的加数

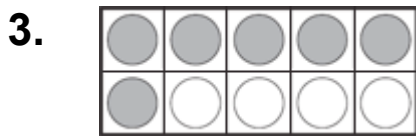
写出加起来等于 10 的数字



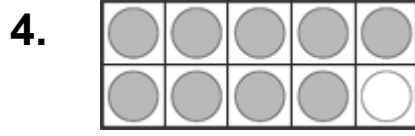
10 等于 8 加 2.



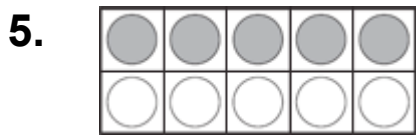
10 等于 _____ 加 _____.



10 等于 _____ 加 _____.



10 等于 _____ 加 _____.



10 等于 _____ 加 _____.



10 等于 _____ 加 _____.

数字概念

7. 那两个数字是10的加数?

- (A) 1 加 8
- (B) 4 加 5
- (C) 7 加 3
- (D) 9 加 2