

名字 _____

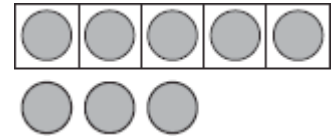
复习
3-2

认出十方格上面的数字

十方格上有 2 个 5 方格

5 方格上的数字可以帮助找出十方格上的数字。

5 加 3 等于 8。

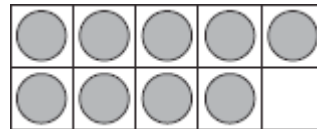


写出十方格上的数字

1. 7

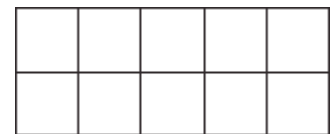


2. _____

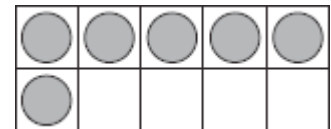


画图想一想。

3. 大中画图画出 5 加 5。



4. 小白写一个算式来表示这个十方格。哪一个是正确的？



5 加 5 等于 10。

10 减 4 等于 6。

5 加 2 等于 7。

