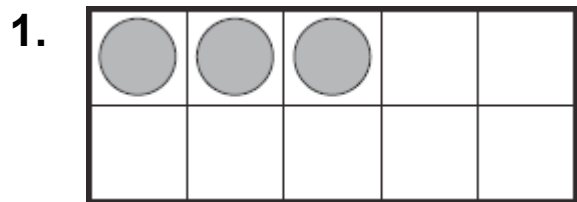
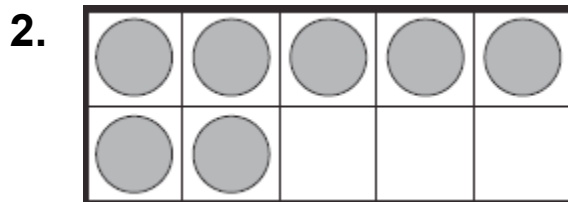


认出十方格上的数字


写出十方格上的数字。






画图想一想。画图，然后写出数字。

3. 小马画出一个 5 还有一个 3，小马的数字是什么？



数字概念。画图，然后解决问题。

4. 小爱说这个图是 5 加 2。小文说这个图是 10 减 3。这个数字是什么？



7
Ⓐ

5
Ⓑ

3
Ⓒ

2
Ⓓ

