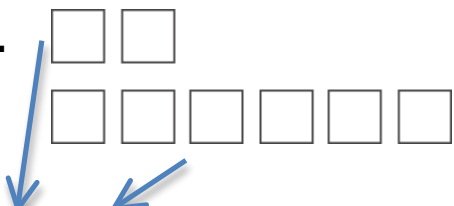


加法和减法的关系


看图写出加法和减法。

1. 

$2 + 6 = 8$ ← 总和


$8 - 2 = 6$

加法的总和是减法算式里的第一个数字。

2. 

_____ + _____ = _____

_____ - _____ = _____

3. 

_____ + _____ = _____

_____ - _____ = _____

代数

4. 空白处的数字是什么？

$4 + \underline{\quad} = 8$

- (A) 2
- (B) 3
- (C) 4
- (D) 5

5. 空白处的数字是什么？

$\underline{\quad} - 4 = 4$

- (A) 8
- (B) 7
- (C) 6
- (D) 4