



## 应用题：数东西

数东西找答案。

- 妈妈把8件衣服放进2个抽屉。  
找出2种不同的方法。





- 老师把7支铅笔放在2个桌子。  
找出2种不同的方法。



## 数字概念


- 姐姐要把9朵花种在2个花盆。  
她把6朵种在第一个花盆，  
下面哪一个图是第二个花盆的花？




(A)



(B)



(C)



(D)