

# 加法的故事

用加法找出一共有几只虫。

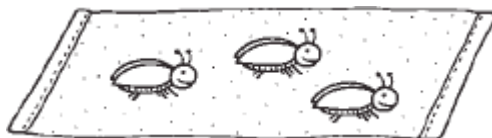
把立方体当虫，数一数有几只。

2 只虫在石头上。



1 2

3 只虫在小地毯上。




3 4 5

一共有几只虫？ 有 \_\_\_\_\_ 只虫。

说说下面的加法故事。

用立方体数出总和。

1. 2 只鸟在树上。




2 只鸟在鸟窝。




一共有几只小鸟？有 \_\_\_\_\_ 只小鸟。

2. 3 条鱼在这里。



2 条鱼在这里。



一共有几条鱼？ 有 \_\_\_\_\_ 条鱼。