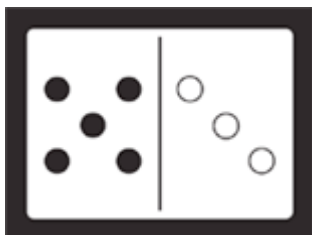


认识加法和数字算式

看图写出部分，然后写出加法算式。

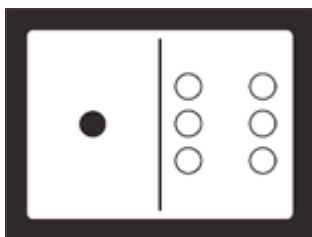
1.



$$\underline{\quad\quad} + \underline{\quad\quad}$$

$$\underline{\quad\quad} + \underline{\quad\quad} = \underline{\quad\quad}$$

2.




$$\underline{\quad\quad} + \underline{\quad\quad}$$

$$\underline{\quad\quad} + \underline{\quad\quad} = \underline{\quad\quad}$$

用图想想

3. 哪一个加法算式是下面问题的算式？圈起来。



花园里有4只棕色的兔子，5只白色的兔子。一共有几只兔子？

- Ⓐ $4 + 5 = 9$
- Ⓑ $2 + 7 = 9$
- Ⓒ $4 + 4 = 8$
- Ⓓ $4 + 1 = 5$