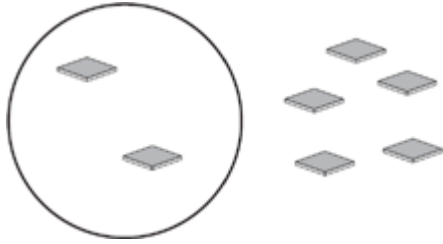


# 加起来等于6或7

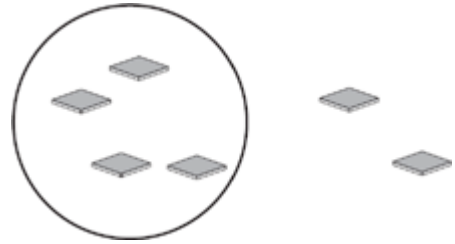
写出圆形里面和外面图片的数字，然后写出总和。

1.



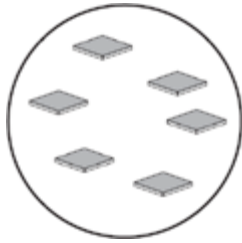
\_\_\_\_\_  
里面      外面      总和

2.



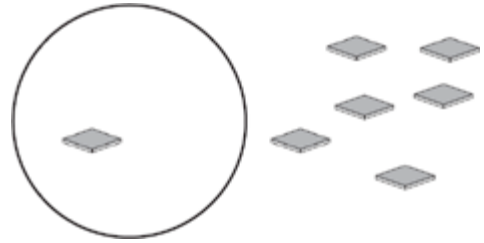
\_\_\_\_\_  
里面      外面      总和

3.



\_\_\_\_\_  
里面      外面      总和

4.



\_\_\_\_\_  
里面      外面      总和

5. 圆形里面画5个方块，圆形外面画1个方块。写下一共有几个方块。

\_\_\_\_\_

