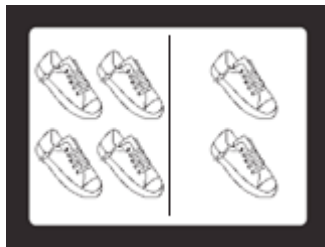


# 数字1到10的组合和图形



用2个部分的  
图来表示数字

这里有4个。



不要数，  
看图回答有几个。

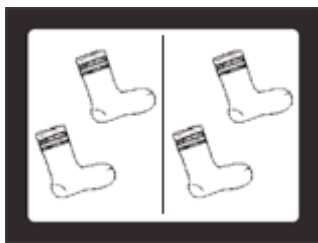


这里有2个。

2个部分加在一起一共有6个。


哪个数字是对的？圈起来。

1.



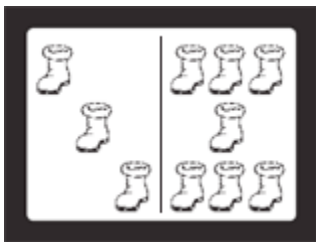
4   5   6

2.



6   7   8

3.



7   9   10

4.



8   10   12

## 代数

5. 这个图形一共有9个，右边要画几个？

