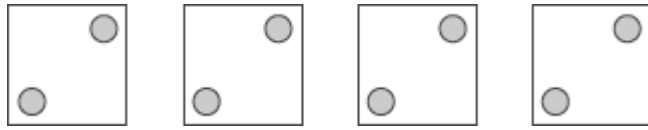


名字: _____

重复的加法

一样的数字加起来，找到总和。



2 + 2 + 2 + 2 = a sum of 8

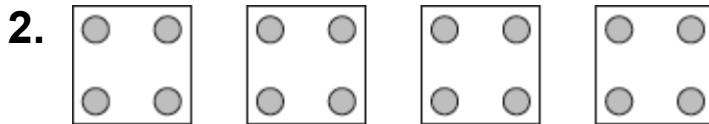
1. 数字概念。画图表示每一个加数是一样的。

找到总和。

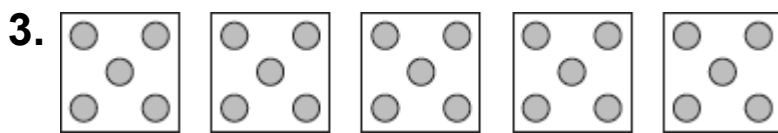
$3 + 3 + 3 =$ _____



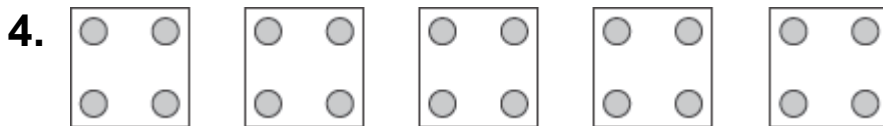
找到总和。



$4 + 4 + 4 + 4 =$ _____



$5 + 5 + 5 + 5 + 5 =$ _____



$4 + 4 + 4 + 4 =$ _____