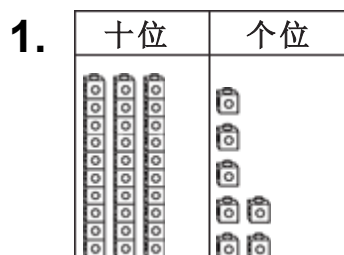


数字的不同组合

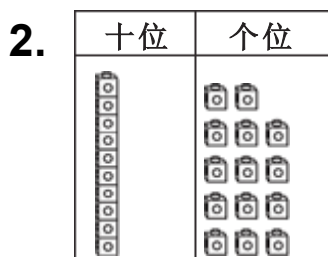
用位值方块，做出数字的不同组合。



$$37 = 30 + 7$$

把 1 个 10 变成 10 个 1

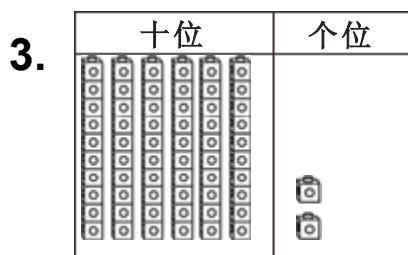
$$37 = \underline{20} + \underline{17}$$



$$24 = 10 + 14$$

把 10 个 1 变成 1 个 10

$$24 = \underline{\quad\quad\quad} + \underline{\quad\quad\quad}$$



$$62 = 60 + 2$$

把 1 个 10 变成 10 个 1

$$62 = \underline{\quad\quad\quad} + \underline{\quad\quad\quad}$$

数字概念

4. 玛丽的数学单上面有 4 个 10，8 个 1。等于下面哪一个？

Ⓐ 6 个 10 加 6 个 1

Ⓑ 3 个 10 加 18 个 1

Ⓒ 3 个 10 加 9 个 1

Ⓓ 1 个 10 加 28 个 1