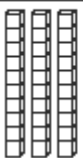



十位，个位

下面的图表示

十位	个位
	

3 个10等于 30.

4 个1 等于 4.



$$30 + 4 = 34$$

34 等于 3 个10 加 4 个1。

3 个10 4 个1

数十位的数字，个位的数字。写出总数。

1.

十位	个位
	

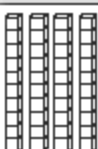

2 个10 加 4 个1

2 个10 等于 20.

4 个1 等于 4.

$$20 + 4 = 24$$

2.

十位	个位
	



_____ 个10 加 _____ 个1

_____ 个10 等于 _____.

_____ 个1 等于 _____.

$$_____ + _____ = _____$$

3.

十位	个位
	

_____ 个10 加 _____ 个1

_____ 个10 等于 _____.

_____ 个1 等于 _____.

$$_____ + _____ = _____$$