



# 十位和个位。 数十位和个位的数字， 写出总数。

1.



十位	个位
	

➔

十位	个位
4	5

➔
—45—

2.



十位	Ones
	

➔

十位	个位

➔
\_\_\_\_\_

3.

十位	Ones
	



➔

十位	个位

➔
\_\_\_\_\_

## 估计

4. 右边的图大概有几个位值方块？

十位	个位
	

70  
Ⓐ

50  
Ⓑ

30  
Ⓒ

10  
Ⓓ