

# 更多得到 10 再做的减法

有不同的方法得到10.

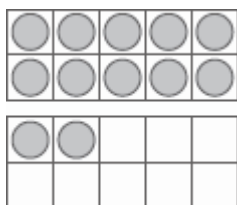
树上有 12 个梨。

用圆片代表梨

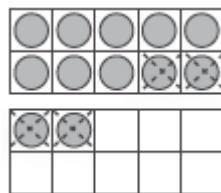
划掉 2 个圆片得到 10。

掉下来 4 个梨。

还剩多少个梨？



再划掉 2 。



$2 + 2 = 4$

$12 - 4 = 8$

所以,还剩 8 个梨。

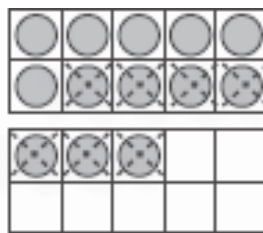
划掉圆片帮你做减法。

写出一个减法算式。

1. Maria 买了 13 管颜料，用了7管。

她还剩多少管？

\_\_\_\_\_ - \_\_\_\_\_ = \_\_\_\_\_



2. Max 的衬衫有 16 颗纽扣，扣掉了8颗。

衬衫上还剩多少颗纽扣？

\_\_\_\_\_ - \_\_\_\_\_ = \_\_\_\_\_

