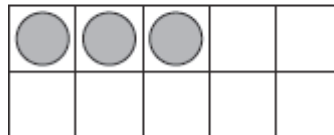
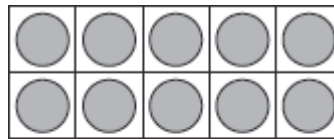


更多得到 10 再做的减法

得到10 再解决问题
写出减法算式。

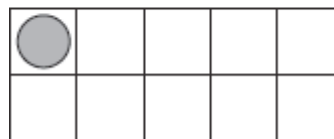
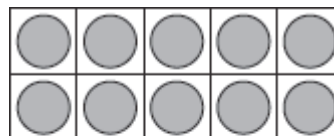
1. Nick 有13 张运动卡片，丢了4张。
Nick 还剩多少张运动卡片？

$$\underline{\quad} - \underline{\quad} = \underline{\quad}$$



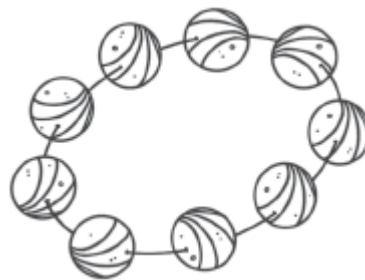
2. Jay 摘了 11 朵花，给奶奶 8 朵。
Jay 还剩多少朵花？

$$\underline{\quad} - \underline{\quad} = \underline{\quad}$$



代数

3. Anita 有18 颗珠子，
做项链用了 9 颗。
Anita 还剩多少颗珠子？
哪个减法算式是正确的？



(A) $19 - 9 = 10$

(C) $18 - 8 = 10$

(B) $18 - 10 = 8$

(D) $18 - 9 = 9$