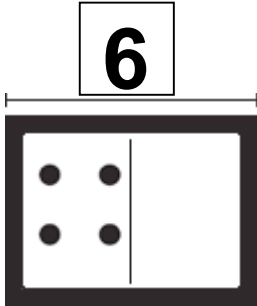


用加法答案算减法

用加法答案算减法

把图按照数字画完，写上未知数。

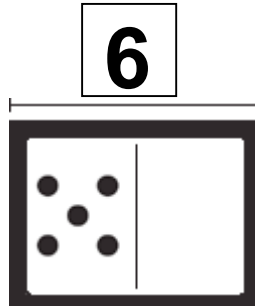
1.



因为 $4 + \underline{\quad\quad} = 6$

所以, $6 - 4 = \underline{\quad}$.

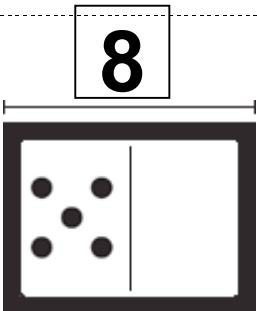
2.



因为 $5 + \underline{\quad\quad} = 6$

所以, $6 - 5 = \underline{\quad}$.

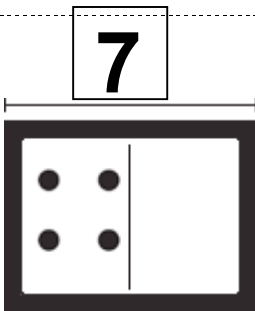
3.



因为 $5 + \underline{\quad\quad} = 8$

所以, $8 - 5 = \underline{\quad}$.

4.



因为 $4 + \underline{\quad\quad} = 7$

所以, $7 - 4 = \underline{\quad}$.

代数

5. 小文要画 8 个苹果。她已经画了 2 个苹果。她还要画几个苹果？哪一个加法算式可以帮助她找到答案？

- (A) $8 + 6 = 14$
- (B) $6 + 6 = 12$
- (C) $2 + 8 = 10$
- (D) $2 + 6 = 8$