



# 倍数


用倍数做加法

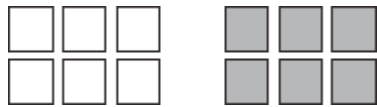
被加数和加数一样就是倍数。


  
 $2 + 2 = 4$


  
 $3 + 3 = 6$


帮下面的倍数写出加法算式


1.   
 $4 + 4 = 8$

2.   
 $6 + \quad = \quad$

3.   
 $\quad + \quad = \quad$

4.   
 $\quad + \quad = \quad$

5.   
 2 个钱包一共有几个硬币?  
 $\quad + \quad = \quad$

6.   
 2 个钱包一共有几个硬币?  
 $\quad + \quad = \quad$