

解决问题：画图然后写出算式

右边有 4 个 蓝色纽扣。

还有 3 个 红色纽扣。一共有几个？




要找出全部有几个纽扣。

先画出各有几个纽扣。

写出算式。

数一数全部有几个纽扣。

_____ 个纽扣

	蓝色纽扣	红色纽扣	
			
	+		= _____

也可以画图找出减法的答案。

小美有 7 个 葡萄。

先画出全部 7 个葡萄。

小美吃掉 3 个葡萄。

画掉图里的 3 个葡萄。



数一数，剩下几个葡萄？

_____ 个葡萄

写下代表图的减法算式。

7 - _____ = _____

看一看。

算式对了吗？

