

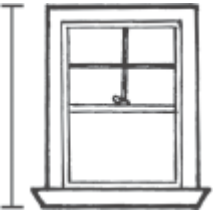


用不同单位来测量

看看教室里的物品。

先预估长度，

然后用吸管来量。

	预估	测量
1. 	大概 _____ 吸管	大概 _____ 吸管
2. 	大概 _____ 吸管	大概 _____ 吸管
3. 	大概 _____ 吸管	大概 _____ 吸管

想一想

4. 预估自行车的长度，哪一个是最接近的答案？

- Ⓐ 大概 4 立方体
- Ⓑ 大概 9 立方体
- Ⓒ 大概 4 吸管
- Ⓓ 大概 9 吸管

