











应用题：想一想

圈出预估，量一量来检查答案。

预估	测量
<p>1. 比较少个  比较少个 </p> 	<p>大概 _____ </p> <p>大概 _____ </p>
<p>2. 比较少个  比较少个 </p> 	<p>大概 _____ </p> <p>大概 _____ </p>

想一想，为什么

把答案圈出来

3. Eric有一只大概12个立方体长的刷子。大概有几个回纹针？

2  7  12 

想一想

4. 量下面板擦的长度，哪样东西会用的比较少？



(A)



(B)



(C)



(D)

