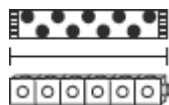


# 测量长度

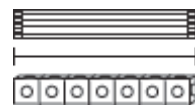
用方块量3个缎带的长度。先数一数有几个方块。



大概 8 个



大概 6 个



大概 7 个

8 个 比 6 个 多。也比 7 个 多。

灰色的缎带是最长的。

6 个 比 8 个 少。也比 7 个 少。

点点的缎带是最短的。

测量下面的缎带。写出最长还有最短的缎带。

A 缎带



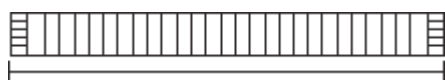
大概 4 个

B 缎带



大概 \_\_\_\_\_ 个

C 缎带



大概 \_\_\_\_\_ 个

\_\_\_\_\_ 个 比 \_\_\_\_\_ 个 多，也比 \_\_\_\_\_ 个 多。

\_\_\_\_\_ 缎带是最长的。

\_\_\_\_\_ 个 比 \_\_\_\_\_ 个 少，也比 \_\_\_\_\_ 个 少。

\_\_\_\_\_ 缎带是最短的。