

## 间接的测量

黑色或是白色的缎带比较短？圈起来。




用灰色缎带来帮你。



4. 用提示找到答案。

我比点点的缎带长。

我比灰色的缎带短。

- (A) 
- (B) 
- (C) 
- (D) 