

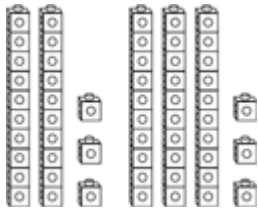
名字 _____

复习

9-3

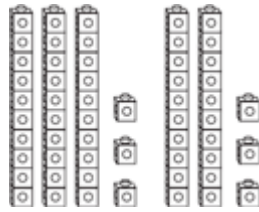
用 $>$, $<$, $=$ 来比较数字

写出 $>$, $<$, $=$.



$<$ 小于

23 小于 33



$>$ 大于

33 大于 23



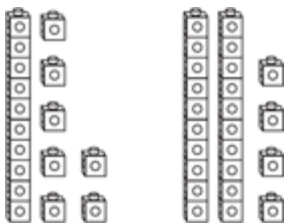
$=$ 等于

23 等于 23

圈出正确的答案.

写 $<$, $>$, $=$.

1.



小于

大于

等于

17



24

2.



小于

大于

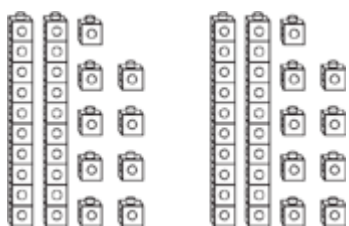
等于

45



32

3.



小于

大于

等于

29



29