


减小数


Montoya先生买了3.5磅的绞肉。他用了2.38磅来做汉堡。他还剩下多少绞肉？

步骤 1: 整齐地按照小数点写下数字。用零来显示出位值。

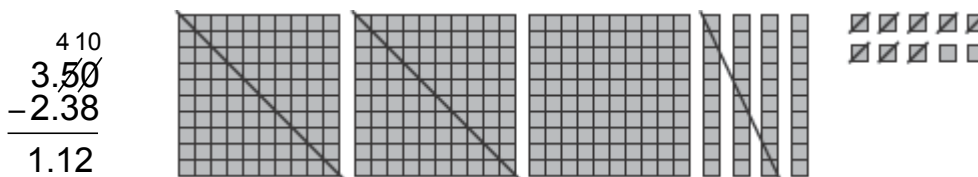


你可以用小数格子来代表这个减法问题。

步骤 2: 减百分之一位值的数字。如果需要借位就借位。



步骤 3: 减十分之一位值的数字和个位数。记得在答案里写下小数点。



Montoya先生还剩下1.12磅的绞肉。

相减.

1.
$$\begin{array}{r} 82.7 \\ -5.59 \\ \hline \end{array}$$

2.
$$\begin{array}{r} 43.3 \\ -12.82 \\ \hline \end{array}$$

3.
$$\begin{array}{r} 7.28 \\ -4.928 \\ \hline \end{array}$$
