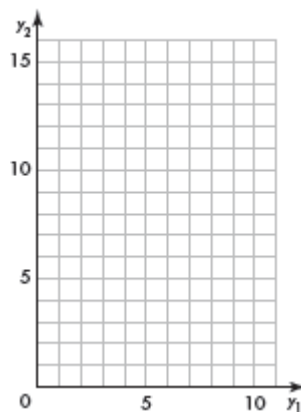


更多序列与绘图

第 1 和 2 题, 绘图出 y_1 和 y_2 。描述两个之间的关系。

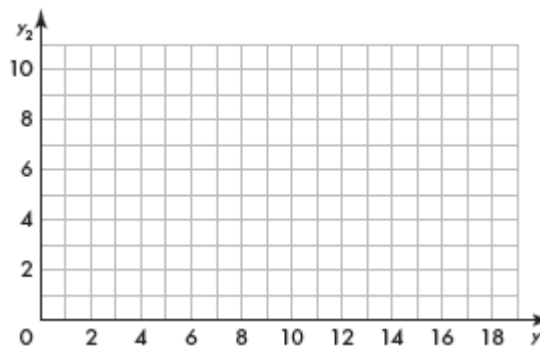
1.

天数	y_1	y_2
1	1	7
2	3	9
3	5	11
4	7	13



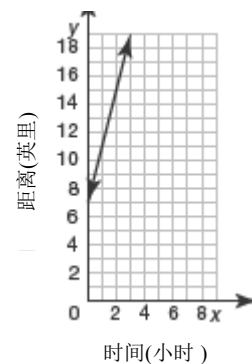
2.

星期	y_1	y_2
2	4	1
3	8	2
4	12	3
5	16	4



3. Dean 在远足。图表显示他离露营地之间的距离。
他2个小时后会离露营地多远？

- A** 5 英里 **C** 15 英里
B 10 英里 **D** 20 英里



4. Ian 工作的每小时会赚 \$9 然后他工作的每天会赚\$10。
为了找出他一天赚多少钱，他写出了这个等式： $y = 9x + 10x$ 。
 x 是工作的小时数。解释为什么这个等式不会帮助他一天赚多少钱。
