

# 特别四边形

有很多特别四边形有特别的特性。

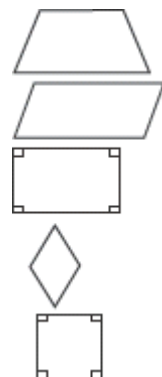
一个 **梯形** 有一对平行的对边。

一个 **平行四边形** 有两对平行的对边。

一个 **长方形** 是一个有4个直角的平行四边形。

一个 **菱形** 是一个有4个一样边长的平行四边形。

一个 **正方形** 是一个有 4 个直角和 4 个一样边长的平行四边形。



用不同方式来分类每个多边形。

1.



\_\_\_\_\_

2.



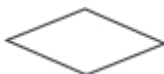
\_\_\_\_\_

3.



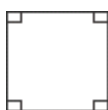
\_\_\_\_\_

4.



\_\_\_\_\_

5.



\_\_\_\_\_

6.



\_\_\_\_\_

**7.解释** Marvin 说所有菱形都是正方形。Aretha说所有正方形都是菱形。谁说得对？请解释。

\_\_\_\_\_

\_\_\_\_\_

\_\_\_\_\_

