







特别四边形

第 1-6 题, 用不同方式来分类每个多边形。

1.		_____	_____	_____
2.		_____	_____	_____
3.		_____	_____	_____
4.		_____	_____	_____
5.		_____	_____	_____
6.		_____	_____	_____

7. 画一个有1对平行对边的四边形。你画了哪个四边形？

8. 一个平行四边形的一个边是7英寸, 然后另一个边是11英寸。平行四边形的周长是什么？

9. 哪个是平行四边形最可能有的边长？

A 2, 2, 6, 2

B 2, 6, 2, 6

C 2, 2, 3, 6

D 2, 6, 6, 6

10. 解释

什么特性可以帮助你知道菱形和长方形的不同点？请解释。

