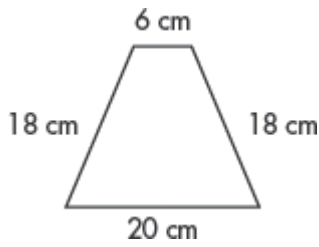


# 四边形的特性

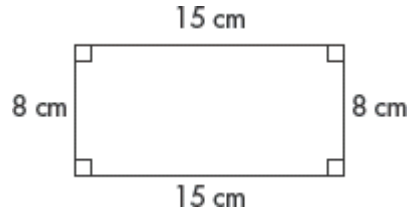
分类每个四边形。

1.



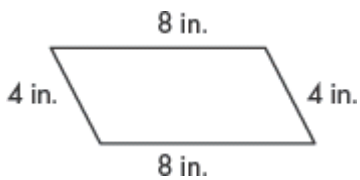
\_\_\_\_\_

2.



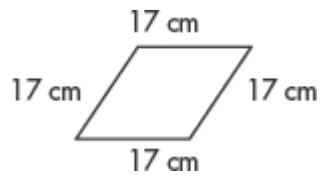
\_\_\_\_\_

3.



\_\_\_\_\_

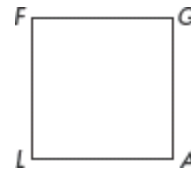
4.



\_\_\_\_\_

5. 说出右边正方形顶点的名称。

\_\_\_\_\_



6. 一个四边形的角是按照这个顺序： $80^\circ$ ,  $100^\circ$ ,  $100^\circ$  和  $80^\circ$ 。这是什么种的四边形？你怎么知道？

\_\_\_\_\_  
\_\_\_\_\_  
\_\_\_\_\_

7. 一个梯形可以有四个钝角吗？请解释。

\_\_\_\_\_  
\_\_\_\_\_  
\_\_\_\_\_