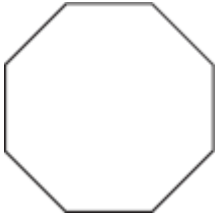


姓名 _____

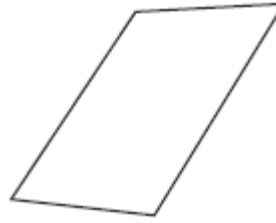
多边形

写出多边形的名称，然后说出它是否是正多边形。

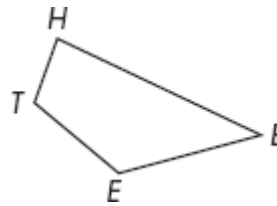
1.



2.



3. 写出多边形的名称。说出它有几个顶点。



4. 哪个多边形有八个边？

A 四边形

B 五边形

C 六边形

D 八边形

5. 解释

画两个正多边形和两个不规则多边形。用几何的词语来描述每个的一个特点。

