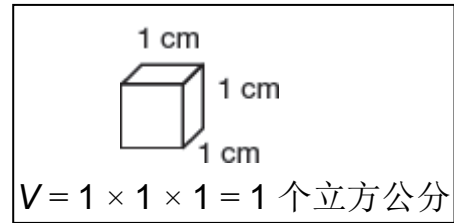
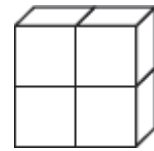
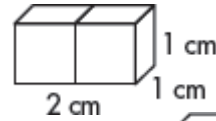


应用题：用物体和推理

这个正方体的体积是1个立方公分。



$V = 2(1 \times 1 \times 1) = 2$ 个立方公分



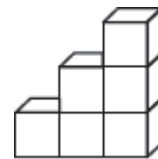
正方体的数量与体积都会是一样的数字。

$V = 4$ 个立方公分

$V = 4$ 个立方公分

每个方块的体积是 1 个立方公分。

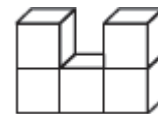
1. 找出图形的体积。



2. 用方块做出然后划出一个体积为 7 个立方公分的图形。

3. 解释你怎么知道第二题里要用几个方块来画出图形。

4. 找出体积。



5. 如果第四题里，每个方块的一边是 3 公分，体积会有什么改变？
