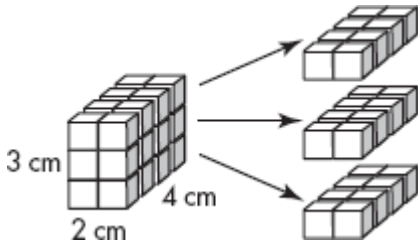


体积

体积是实心形状里面的空间。它是用立方单位来测量的。一个立方单位是一个有1个单位的立方体的体积。

怎么找出长方体的体积：

数单位方块：



数每层有几个方块：**8个方块**。

与层次的数量相乘。

$$8 \text{ 个方块} \times 3 = 24 \text{ 个方块}$$

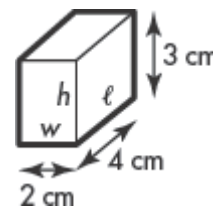
每个方块的体积是**1立方公分**。

整个立方体的体积是 **24 立方公分**。

用公式

你知道长度, l , 宽度, w , 和高度, h 。用公式计算出体积, V 。

$$V = l \times w \times h.$$

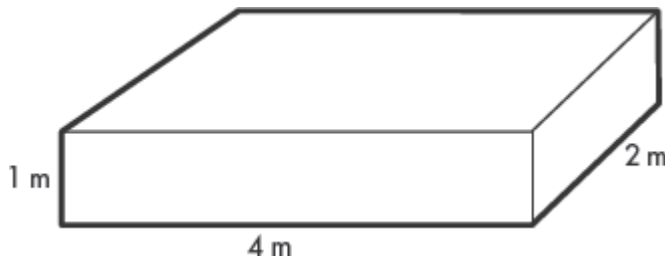


$$V = 4 \text{ 公分} \times 2 \text{ 公分} \times 3 \text{ 公分}$$

$$V = 24 \text{ 立方公分}$$

用公式找出长方体的体积。

1.



2.

