

姓名 _____

体积

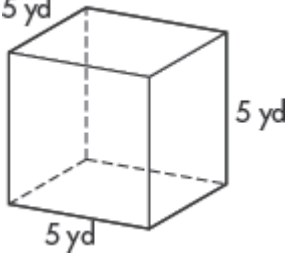
找出长方体的体积。

1. 底部面积 56 平方英寸, 高度 6 英寸

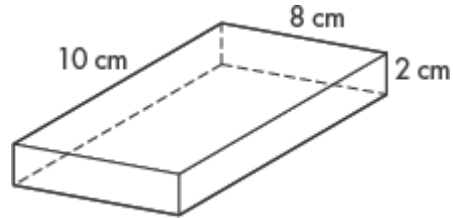
2. 底部面积 32 平方公分, 高度 12 公分

3. 底部面积 42 公尺, 高度 8 公尺

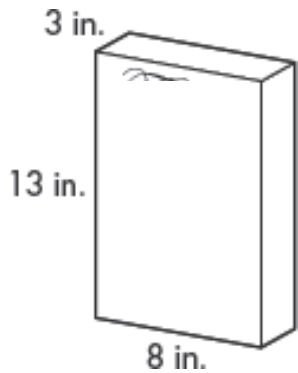
4. 5 yd



5.



6. 麦片盒子的体积是什么?

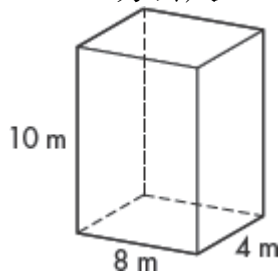


8. 一个体积是120立方公尺和底部面积是30平方公尺的实心形状的高度是什么?

7. 实心形状的体积是什么?

A 3.2 立方公尺 C 320立方公尺

B 32立方公尺 D 3,200立方公尺



9. Bradford 鱼缸的底部是22 英寸 × 12 英寸然后高度是15英寸。鱼缸的体积是什么? 如果鱼缸没有盖子, 它的体积会改变吗? 请解释。

