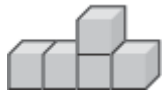


实心形状的不同角度

你可以用上面，边和上面的角度来看左边的形状。



所有的方块都看得到。



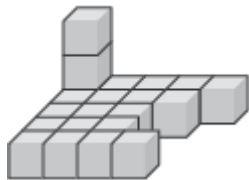
前面 边 上面



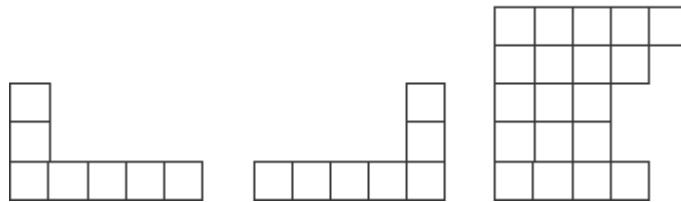
所有的方块都看得到。



前面 边 上面

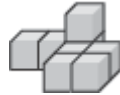


有一个方块是看不到的。

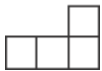


前面 边 上面

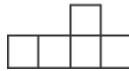
看这些积木。写下前面，边和上面。



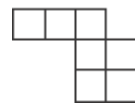
1.



2.



3.



有几个积木是看不到的？

4.



5.



6.



