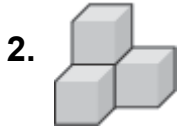
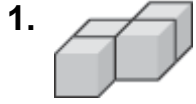


# 实心形状的不同角度

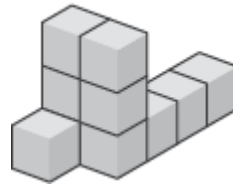
第 1 和 2 题, 画单位积木的上面, 边和上面。



3. 在第 2 题的形状里, 有几个积木是看不到的?  
\_\_\_\_\_

4. 右边的形状里, 一共有几个方块?

- A 8
- B 9
- C 10
- D 11



5. 一个形状是用 8 个单位积木组成的。它有 3 个单位高。它最长的长度是什么? 请解释。

---

---

---

