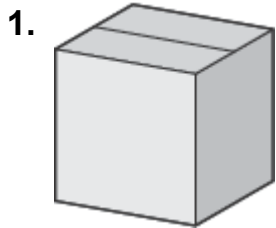



姓名 _____

实心形状

第 1 到 3 题, 说出实心形状像哪个形状。



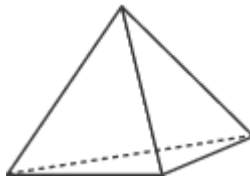




第 4 和 5 题, 写出有几个顶点, 边和面来完成表格。

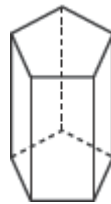
4.

顶点	边	面



5.

顶点	边	面



6. 哪个是右边形状的三维名称?

- A 圆锥体
- B 三角柱
- C 锐角四边形
- D 长方体



7. 圆锥体有几个顶点? 请解释。

