

覆盖的部份

覆盖部份的平方单位可以叫做面积。




在上面的图形里，你可以数有几个平方单位来找出正方形的面积。

这个图形有8个正方形。

所以，这个图形的面积是8个平方单位。

有时候你可以估计一个图形的面积。



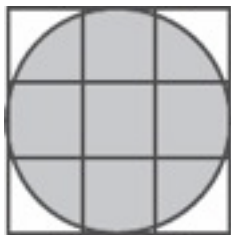
这个图形大概有20个正方形。

所以，图形的面积大概是20个平方单位。


数一数来找出下面图形的面积。

写出这是准确的面积还是估计的面积。

1.



2.



3.

