




应用题：使用统计图

你可以用统计图上的资料来解答题目。

老虎获得的票比狮子获得的多几票？

球队名字的投票表	
野狼	
老虎	
狮子	

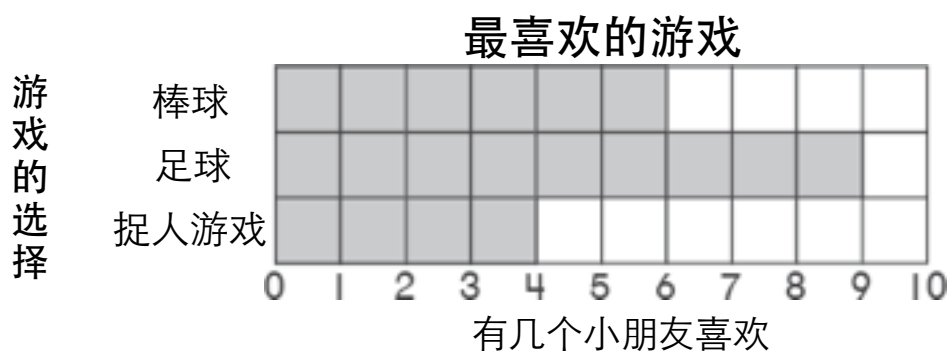
数一数统计图上的老虎和狮子然后做减法。

$$11 - 9 = 2$$

老虎的票比狮子的票多 2 票。

用统计图解答题目。

喜欢足球的小朋友比喜欢棒球的小朋友多几个？



1. 有几个小朋友喜欢足球？ 9

2. 有几个小朋友喜欢棒球？ _____

3. 做减法。 _____ - _____ = _____ 个小朋友