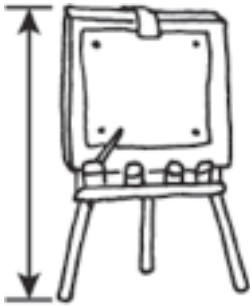


长度的测量

你可以用不同的单位来测量。

用不同的单位来量教室里的东西。来测量这些东西，哪一个单位需要用的比较多？请圈出来。

1.

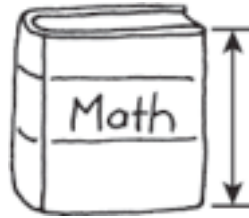


比较多英尺
比较多码

大概 _____ 英尺

大概 _____ 码

2.

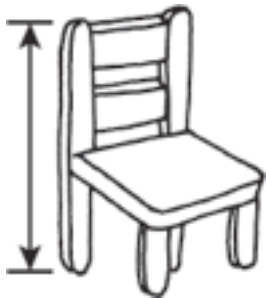


比较多英寸
比较多英尺

大概 _____ 英尺

大概 _____ 英寸

3.

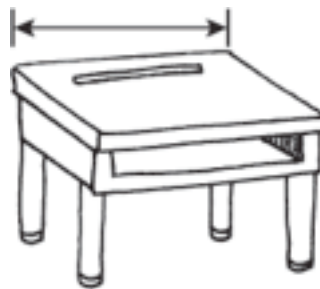


比较多英寸
比较多英尺

大概 _____ 英尺

大概 _____ 英寸

4.



比较多英寸
比较多英尺

大概 _____ 英寸

大概 _____ 英尺