

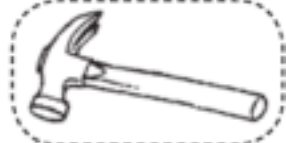








英寸, 英尺 和 码


圈出最接近长度的物体。

<p>1. 一英尺</p>			
<p>2. 一码</p>			
<p>3. 一英寸</p>			

4. 测量看看从你的手指到你的手肘有多长。

	<p>估计 大概 _____ 个回纹针</p>	<p>测量 大概 ____ 个回纹针</p>	<p>单位 大概 _____ 英寸</p>
---	---------------------------------	--------------------------------	-------------------------------

5. Sandy 测量了球杆的长度。她说球杆是4个单位长。她用了哪个单位来量？

- 
- (A) 方块
 - (B) 英寸
 - (C) 英尺
 - (D) 码

6. 想一想这个罐子的高度是什么？

- (A) 9 个方块
- (B) 9 英寸
- (C) 9 英尺
- (D) 9 码

