

应用题：试一试，检查和修正

用图表来解答。试一试，
检查和修正（如果需要）
来解答问题。

狗零食的价钱	
狗零食	价钱
饼干	36¢
骨头	34¢
卷条	29¢
棍子	23¢





1. Marty 付了65¢来买狗零食。
她买了哪两种狗零食？

- (A) 饼干和骨头 (C) 骨头和棍子
 (B) 卷条和饼干 (D) 棍子和卷条

2. Abdul 付了50¢然后找回27¢。
他买了哪两种狗零食？

- 饼干 骨头 卷条 棍子
 (A) (B) (C) (D)

3. 几何 Jill付了75¢来买一个戒指。收银员找她7¢。
她买了哪个形状的砖石？

- (A) 
 (B) 
 (C) 
 (D) 

戒指的价钱	
砖石的形状	价钱
正方形	62¢
圆形	54¢
三角形	68¢
长方形	79¢