

一块钱

有多少钱？从一块钱的纸钞开始算。
然后从最多的面额算到最少的面额。
在钱的下面写下数字来显示你算钱的顺序。

			
3	2	1	4

数数看一共有多少钱。





				
	+25	+10	+1	总数
\$1.00	\$1.25	\$1.35	\$1.36	\$1.36

数数看一共有多少钱。

1.

				
\$1.00	\$2.00	_____	_____	总数

2.

				
_____	_____	_____	_____	总数