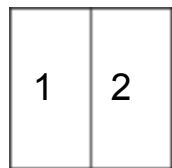


全部和相等的部份

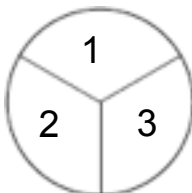
相等的部份有同样的形状和大小。

2 个相等的部份



二分之一
三分之一
四分之一

3 个相等的部份



二分之一
三分之一
四分之一


4 个相等的部份



二分之一
三分之一
四分之一

有几个相等的部份？写出有几个部份。
圈出二分之一，三分之一或四分之一。

1. _____ 个相等的部份 2. _____ 个相等的部份 3. _____ 个相等的部份



二分之一
三分之一
四分之一




二分之一
三分之一
四分之一




二分之一
三分之一
四分之一

4. _____ 个相等的部份 5. _____ 个相等的部份 6. _____ 个相等的部份



二分之一
三分之一
四分之一



二分之一
三分之一
四分之一



二分之一
三分之一
四分之一

7. 画图解释 画线来表示2个相等的部份。

