





和立体图形相关的平面图形

把你可以画出平面图形的立体图形圈起来。







3. Dionne 用了一个立体图形画了一个正方形。他用了那个立体图形？

- (A) 
- (B) 
- (C) 
- (D) 

4. Maggie用了什么东西来画出下面的长方形？



- (A) 
- (B) 
- (C) 
- (D) 

5. 几何 把Vincent用来画下面的虫的积木圈起来。

