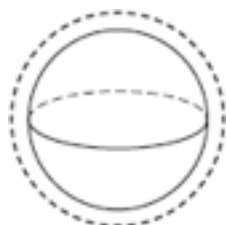
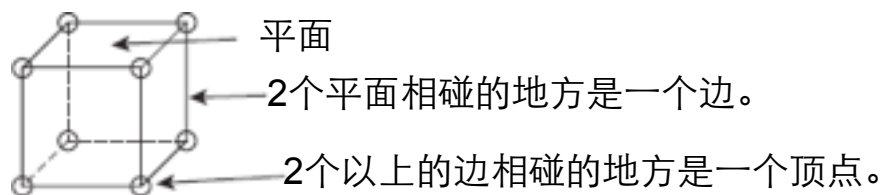


# 平面，顶点和边

有些立体图形有平面或面。有些有边和顶点。



球体



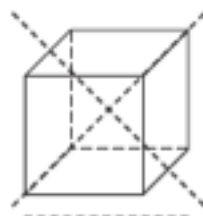
四角锥



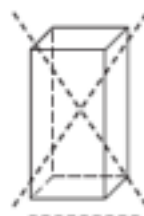
圆柱体



圆锥体




正方体



长方体

在有边的立体图形上画个 X。  
在有顶点的立体图形下画一条线。  
把没有平面的立体图形圈起来。

写下有几个平面，边和顶点。用立体图形来帮助你。



平面

2

边

\_\_\_\_\_

顶点

\_\_\_\_\_



平面

\_\_\_\_\_

边

\_\_\_\_\_

顶点

\_\_\_\_\_