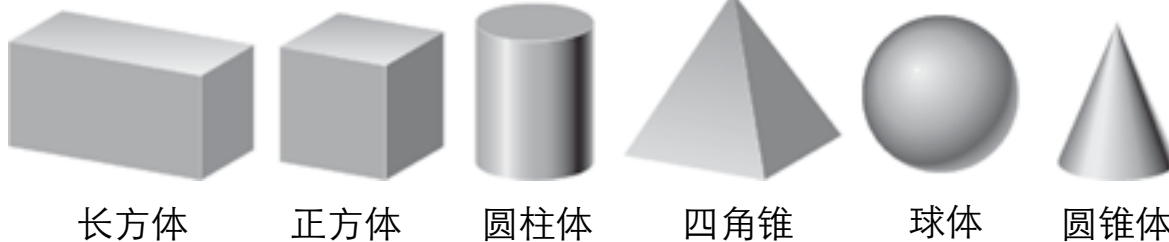


平面，顶点和边




1. 写下有几个平面，顶点和边，然后把有这些物体的形状圈起来。

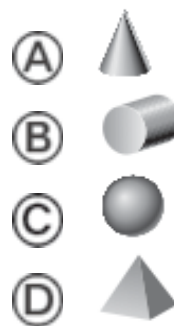


一个长方体有 6 个平面，8 个顶点和 12 个边。

2. Ming的形状有2个平面。
这个形状没有边也没有顶点。
这个形状是什么？



3. Kim的形状没有平面。
这个形状么有边也没有顶点。
这个形状是什么？



4. 代数 这两个形状一共有几个边？ 写出一个算式。



这两个形状一共有 12 个边。